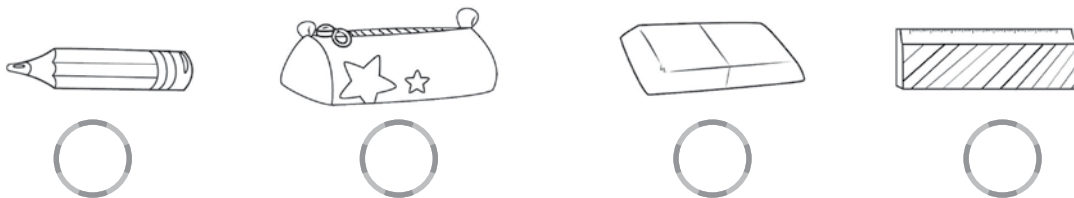
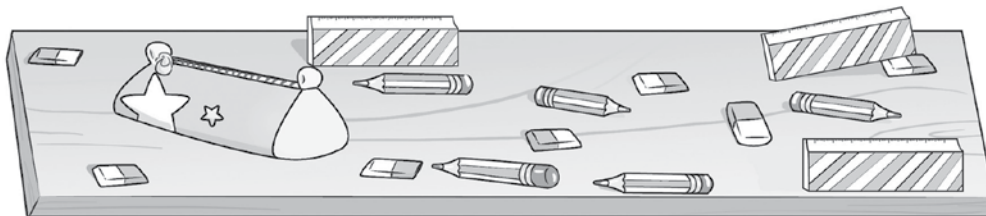


$1+2=3$

1 **ESCRIBÍ** CUÁNTOS OBJETOS HAY DE CADA UNO.



2 **COMPLETÁ** ESTA PARTE DEL CUADRO DE NÚMEROS.

0	1		3	4		6			9
10		12	13		15	16		18	
	21	22		24			27	28	29
30									

3 **LEÉ** LAS PISTAS Y **DIBUJÁ** LOS ELEMENTOS.

- DOS ALMOHADONES DE COLORES ENCIMA DE LA CAMA.
- UN PAR DE PANTUFLAS SOBRE LA ALFOMBRA.
- UNA SILLA ENTRE LA MESA DE LUZ Y EL ARMARIO.
- UN TROFEO SOBRE LA MESA DE LUZ.



NOMBRE: .....

$1+2=3$

**1 COMPLETÁ EL CUADRO.**


1 MENOS		1 MÁS
	34	
	29	
	19	
	8	

**2 RESOLVÉ ESTOS PROBLEMAS CON DIBUJOS O CON NÚMEROS.**

MARIEL TIENE 6 CARTAS Y SU HERMANA ANITA TIENE 3. ¿CUÁNTAS CARTAS TIENEN ENTRE LAS DOS?

SOL TIENE 8 FIGURITAS Y YA PEGÓ 4 EN EL ÁLBUM. ¿CUÁNTAS LE FALTA PEGAR?

**3 COMPLETÁ EL CUADRO CON DIBUJOS O PALABRAS.**

UN ÚTIL MÁS CORTO		UN ÚTIL MÁS LARGO
		

¿CÓMO TE FUE?



FUE FÁCIL



ME COSTÓ

$1 + 2 = 3$

1 **DIBUJÁ** LAS FRUTAS QUE FALTAN PARA LLEGAR A 10 Y **COMPLETÁ** LAS SUMAS.

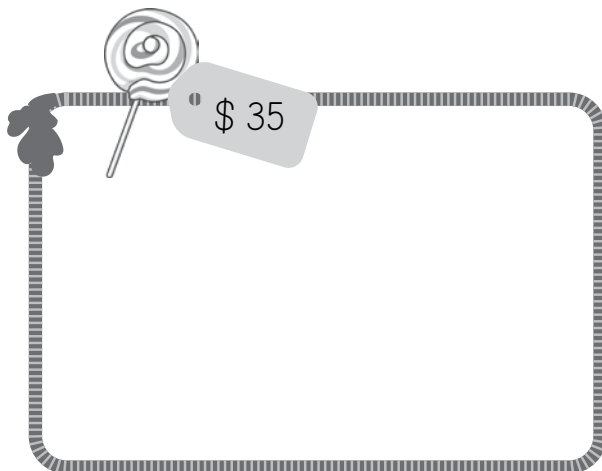
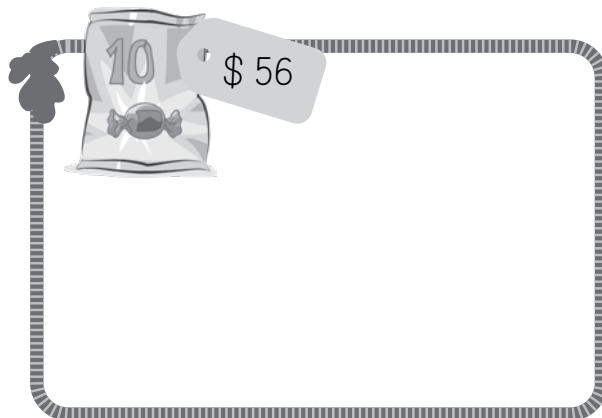


$8 + \square = 10$



$4 + \square = 10$

2 **DIBUJÁ** LOS BILLETES DE \$ 10 Y LAS MONEDAS DE \$ 1 PARA PAGAR JUSTO CADA COMPRA.



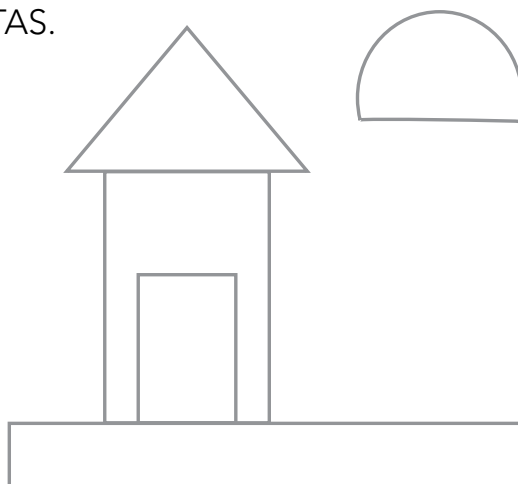
3 **COMPLETÁ** EL DIBUJO SEGÚN LAS PISTAS.

**PINTÁ:**

- DE VERDE LAS FIGURAS CON CUATRO VÉRTICES.
- DE ROJO LA FIGURA CON TRES VÉRTICES.
- DE AMARILLO LA FIGURA CON UN LADO CURVO.

**DIBUJÁ:**

- UN ÁRBOL CON DIFERENTES FIGURAS GEOMÉTRICAS.



NOMBRE: .....

$1+2=3$

1 **COMPLETÁ** ESTA PARTE DEL CUADRO DE NÚMEROS.

30	31	32				36			
40				44			47		
50			53		55				
60									

2 **RESOLVÉ** SIN HACER LAS CUENTAS.

$1 + 1 =$	
$2 + 2 =$	
$3 + 3 =$	
$4 + 4 =$	
$5 + 5 =$	

$6 + 6 =$	
$7 + 7 =$	
$8 + 8 =$	
$9 + 9 =$	
$10 + 10 =$	

3 **RODEÁ** EL CÁLCULO QUE SIRVE PARA RESOLVER CADA CASO.

$20 + 20 =$

$3 + 3$

$2 + 2$

$5 + 5$

$10 + 10 =$

$3 + 3$

$2 + 2$

$1 + 1$

3 **MARCÁ** EN EL CALENDARIO:

- CON ROJO EL NOMBRE DEL MES.
- CON AZUL LAS LETRAS DE LOS DÍAS.
- CON VERDE LOS DÍAS QUE NO VAN A LA ESCUELA.

MARZO						
DOM	LUN	MAR	MÉ	JUE	VIE	SÁB
			1	2	3	4
5	6	7	8	9	10	11
12	13	14	15	16	17	18
19	20	21	22	23	24	25
26	27	28	29	30	31	

1 **COMPLETÁ** ESTA PARTE DEL CUADRO DE NÚMEROS.

60									
70									
80									
90									
100									

2 **ESCRIBÍ SÍ O NO** EN CADA ORACIÓN.

EL 64 ESTÁ EN LA FILA DE LOS QUE EMPIEZAN CON 4.

EL 98 ESTÁ EN EL CRUCE DE LA FILA DE LOS QUE EMPIEZAN CON 9 Y LA COLUMNA DE LOS QUE TERMINAN EN 8.

2 **TACHÁ** LOS DATOS INNECESARIOS. **PINTÁ** EL CÁLCULO CORRECTO PARA CADA PROBLEMA Y **RESOLVELO**.

MARISA TIENE 23 ACUARELAS QUE CUESTAN \$ 92. TAMBIÉN TIENE 15 TÉMPERAS. ¿CUÁNTAS PINTURAS TIENE EN TOTAL?

$23 + 92 + 15 =$

$23 - 15 =$

$23 + 15 =$

RAFAEL TENÍA 28 CARTAS Y LE REGALÓ 4 A SU PRIMO DE 8 AÑOS. ¿CUÁNTAS CARTAS LE QUEDARON A RAFAEL?

$28 - 8 =$

$28 + 4 =$

$28 - 4 =$

3 **DIBUJÁ** ELEMENTOS EN LA BALANZA Y **RODEÁ** EL PLATO MÁS PESADO.



NOMBRE: .....

**1 COMPLETÁ LAS ESCALAS.**

12		16			22			30
----	--	----	--	--	----	--	--	----

	30		40	45				70
--	----	--	----	----	--	--	--	----

10		30				70		
----	--	----	--	--	--	----	--	--

**RESPONDÉ SÍ O NO.**

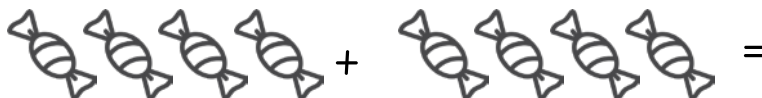
LOS NÚMEROS DE LA ESCALA DEL 5 TERMINAN SOLAMENTE EN 5.

LOS NÚMEROS DE LA ESCALA DEL 5 TERMINAN EN 5 O EN 0.

TODOS LOS NÚMEROS DE LA ESCALA DEL 5 ESTÁN EN LA ESCALA DEL 10.

ALGUNOS NÚMEROS DE LA ESCALA DEL 5 ESTÁN EN LA ESCALA DEL 10.

**2 RESOLVÉ CON DIBUJOS O NÚMEROS.**



+  =

**3 RESOLVÉ CON LA CALCULADORA.**

24 + 35 =

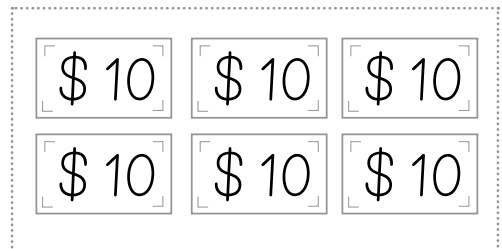

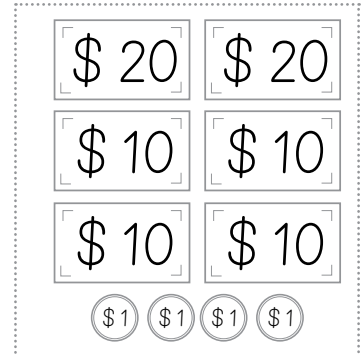
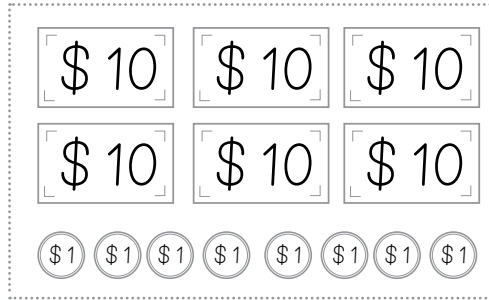
82 - 11 =

23 + 34 + 21 =



$1+2=3$

1 **RODEÁ** LAS CANTIDADES DE DINERO JUSTAS PARA CADA COMPRA.



2 **UNÍ** CADA ENUNCIADO CON SU CÁLCULO.

SIMÓN TENÍA 24 FIGURITAS. SI LE DIO 4 A ANA, ¿CUÁNTAS LE QUEDAN AHORA?

LA SEÑO FLOR TENÍA 20 LIBROS Y PRESTÓ 4. ¿CUÁNTOS LIBROS LE QUEDAN?


ZOE TENÍA 24 CARTAS Y SU PRIMO LE REGALÓ 4 MÁS. ¿CUÁNTAS TIENE AHORA?

$20 - 4 =$

$24 + 4 =$

$24 - 4 =$

3 **UNÍ** CADA ENVASE CON SU HUELLA.





NOMBRE: .....

**1 COMPLETÁ LA TABLA.**

ARMADO DE GUIRNALDAS			
	MORA	JOAQUÍN	TOTAL
LUNES	6		10
MIÉRCOLES	3	5	
VIERNES		6	12
TOTAL			

**RESPONDÉ LAS PREGUNTAS:**

¿CUÁNTAS GUIRNALDAS HIZO JOAQUÍN EN TOTAL?

¿QUÉ DÍA MORA Y JOAQUÍN HICIERON MÁS GUIRNALDAS?

¿CUÁNTAS GUIRNALDAS HICIERON LOS DOS CHICOS EN LOS TRES DÍAS?

**2 RESOLVÉ ESTOS PROBLEMAS.**

CAMILA ACOMODÓ 5 LIBROS EN CADA ESTANTE. SI LA BIBLIOTECA TIENE 3 ESTANTES, ¿CUÁNTOS LIBROS HAY EN TOTAL?

NICO TIENE QUE GUARDAR SUS 12 AUTOS EN UNA CAJA. SI ENTRAN 3 AUTOS POR FILA, ¿CUÁNTAS FILAS VA A COMPLETAR?

**3 RESPONDÉ SÍ O NO EN CADA ORACIÓN.**

UNA BOTELLA DE 2 LITROS DE AGUA TIENE EL DOBLE DE UNA DE 1 LITRO.

UNA BOTELLA DE MEDIO LITRO TIENE MÁS CAPACIDAD QUE UNA DE 1 LITRO.





